



個別指導塾フォルテ

×



算数

答え合わせ

2年生

だい5せつ

1~4のふくしゅう

①の形は
 アのぼうが 8本で出来ています。

アのぼうを8本つかって
 ①よりも 1マス分 広い形を 右のマ
 スに 作りましょう。

①の形は
 アのぼうが 10本で出来ています。

アのぼうを10本つかって
 ①よりも 2マス分 広い形を 右のマ
 スに 作りましょう。

ア										
①										
②										

① せん手たちが さいしよに れんしゅうを はじめたのは 何時何分でしょう。

①

答え 10時45分

② せん手たちが れんしゅうを さいかいしたのは 何時何分でしょう。

②

答え 12時45分

③ せん手たちが おひる休みのあとに しゅう合したのは 何時何分でしょう。

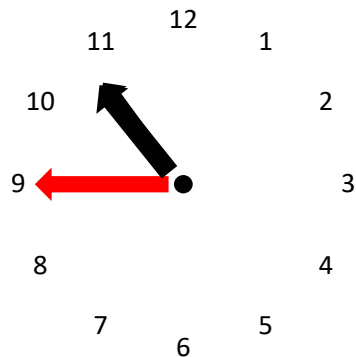
③

答え 12時35分

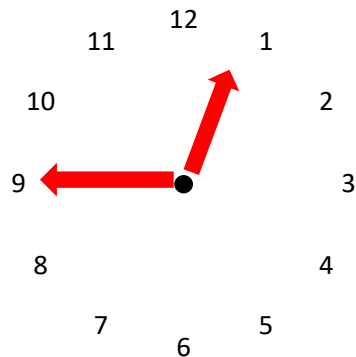
④ ①～③のときの 時こくを それぞれ下の 時計にかきこみましょう。

④

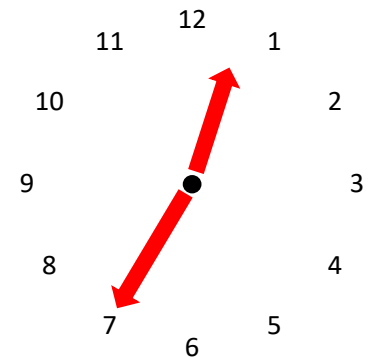
①



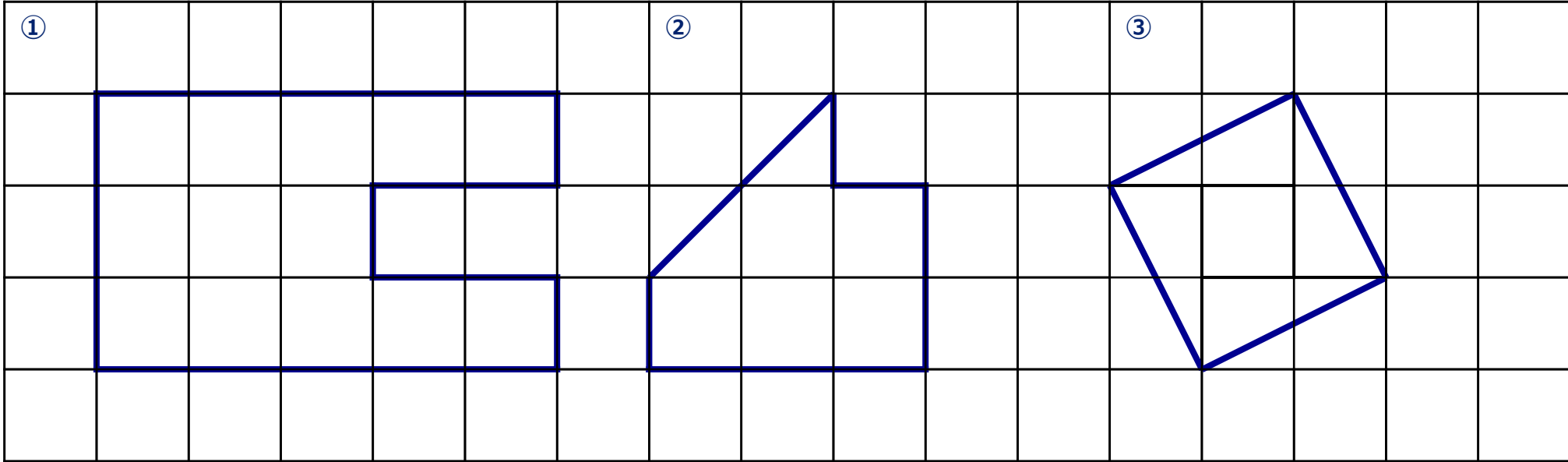
②



③



下の図をみて もんだいに 答えましょう。



① ② ③ の形は それぞれ 何マス分でしょう。

①

答え① **13マス分**

答え② **6マス分**

答え③ **5マス分**

1番大きい形は 1番小さい形よりも 何マス分大きいでしょう。式もかきましょう。

②

式

$$13 - 5 = 8$$

答え

8マス分