



個別指導塾フォルテ

×



さんすう

1ねんせい

だい7せつ

どちらがながいか

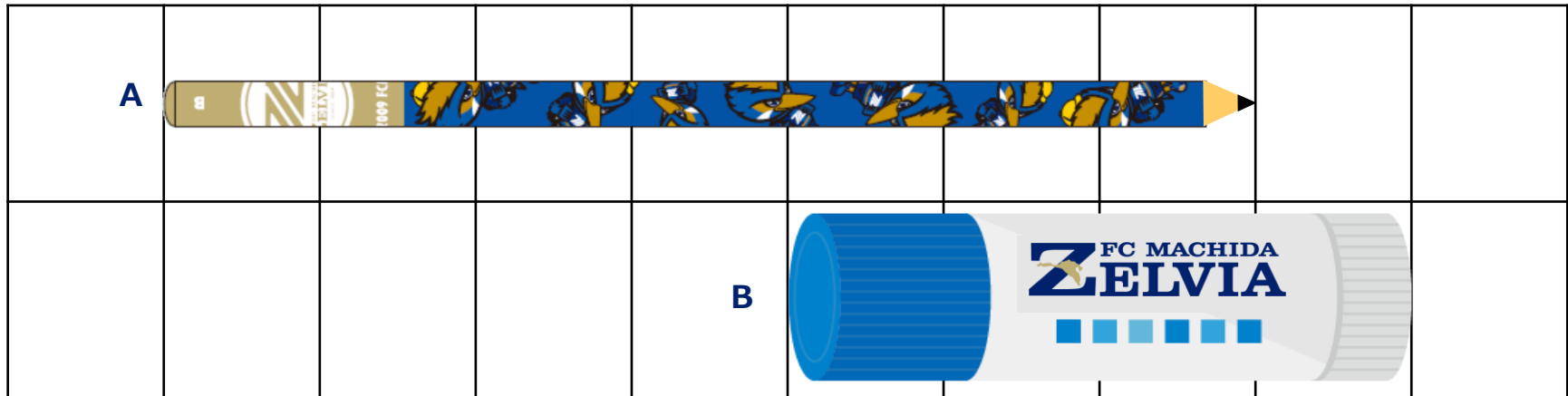
A、Bの どちらが ながいでしょうか。

次の をうめながら、かんがえてみましょう。

① Aのながさは マスぶん です。

② Bのながさは マスぶん です。

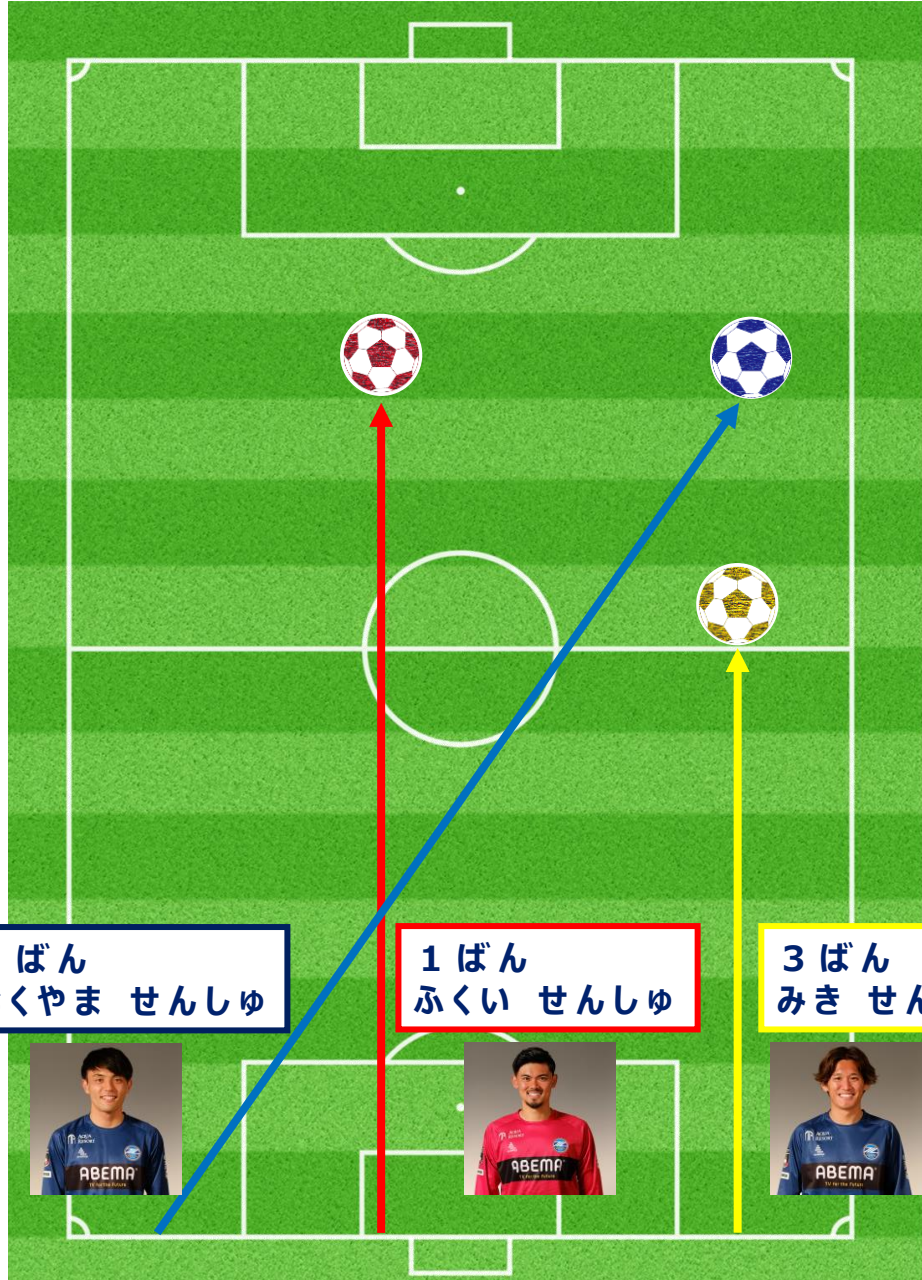
③ だから、 のほうが ながいです。



ながさを くらべるときは、
なんマスぶんかを かぞえれば いいね！

こたえ

① 7 ② 4 ③ A



ボールを とばしたながさが ながいじゆんに
せんしゆの なまえを こたえましょう。

1 ばん

せんしゆ

2 ばん

せんしゆ

3 ばん

せんしゆ

はじめをそろえても、
ながさをくらべることができるね！



【コラム】どちらがながい？

右の ふたつの ずを みてみよう！

上のずの 赤いせんと 下のずの 青いせん

どちらがながいかな？

じつは、この2つのせんは おなじ ながさなんだ。

「さくし」と いわれるもので、

じっさいとは ちがうように 見えることなんだ。

ちなみに、こんかい しょうかいした 「さくし」は、「ミューラーリヤーさくし」と いわれるものだよ。

きょうみを もった子は ほかに も どんなさくしがあるのか しらべてみよう！





ながさを しらべましょう。

① A、B、C、Dのながさは それぞれ なんマスぶん ですか？

A		B		C		D	
---	--	---	--	---	--	---	--

② Aと Bでは、 どちらが なんマスぶん ながいですか。（しきもかんがえてみよう！）

しき		こたえ	
----	--	-----	--

A											D
											
C	