



個別指導塾フォルテ

×



# 算数


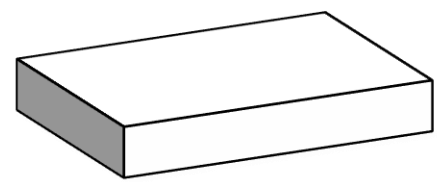
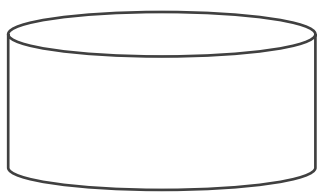
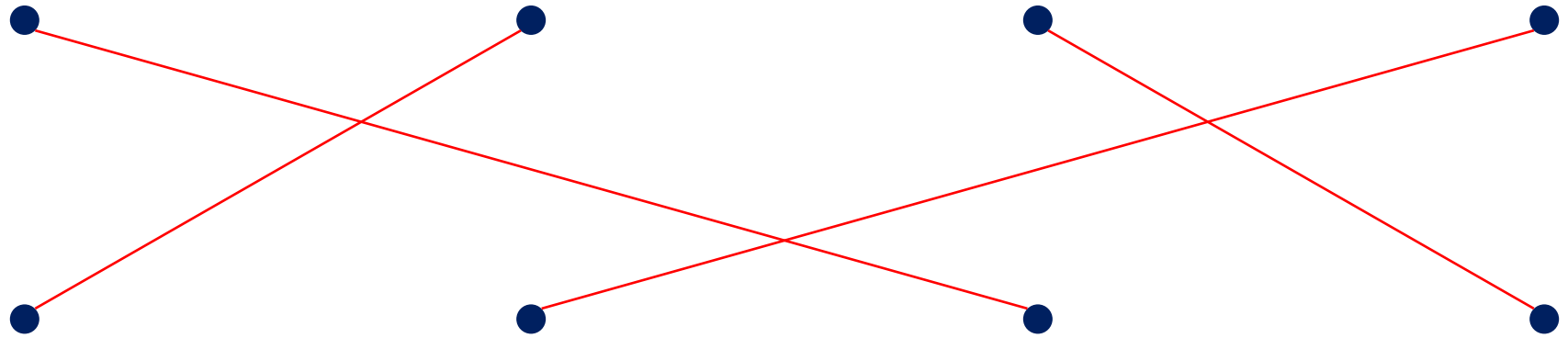
## 答え合わせ

### 2年生

だい4せつ

形を作る

にている形を 線で むすびましょう。



下の形は ㊦ のほうを 何本つかっているでしょう。

㊦  
↓

①

14本



②

19本

