



個別指導塾フォルテ

×



算数

2年生



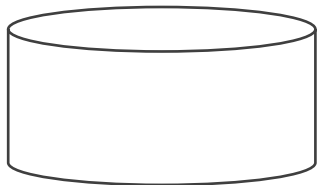
だい4せつ

形づくり



いろいろな形を見つけよう!

にている形を 線で むすびましょう。



下の形は ㉞のぼうを 何本つかっているでしょう。

㉞
↓

1本
↓

2本
↓

1マスで1本


①

| | |
|--|---|
| | 本 |
|--|---|



②

| | |
|--|---|
| | 本 |
|--|---|



【コラム】 サッカーボールは どういう形で 出来ている？

ウォーミングアップに出てきた サッカーボールの形を よく見てみよう。

よく見ると 右の 二つの 形で 出来ているのに 気づいたかな？

①の形を 五角形、②の形を 六角形 とよぶよ。

①



②



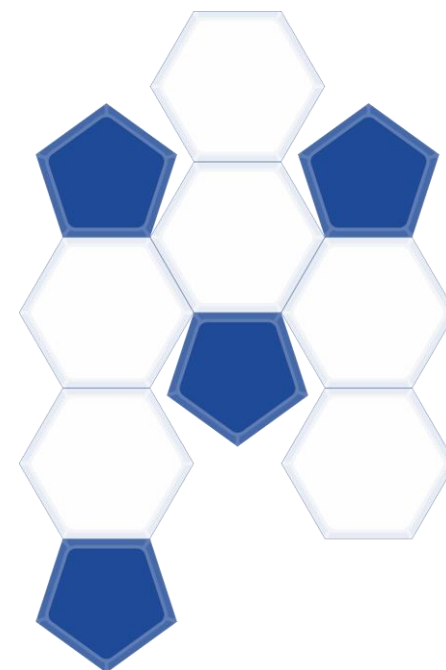
じつは サッカーボールは 五角形を12こ 六角形を20こを

組み合わせた 形になっているんだ。

右の図は じっさいに 五角形と六角形を 組み合わせて

サッカーボールを 作る時の 一部だよ。

みのまわりのものが どのような 形で 出来ているか よく見てみよう。





個別指導塾フォルテ

×



算数

答え合わせ

2年生



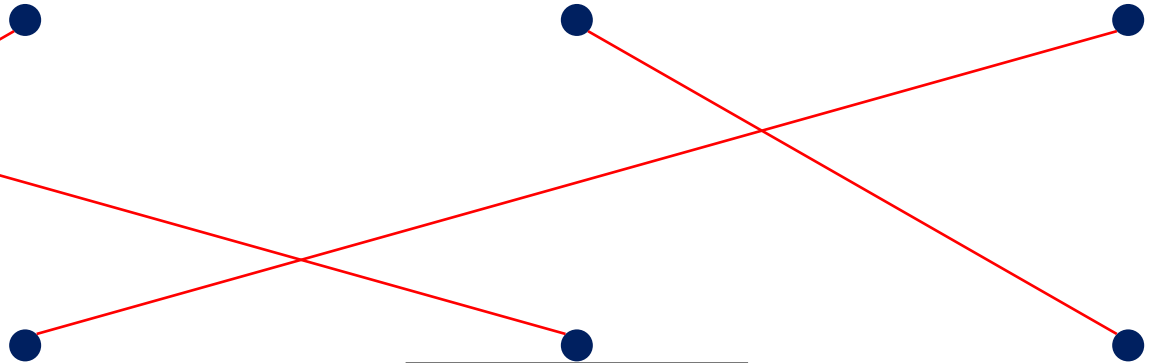

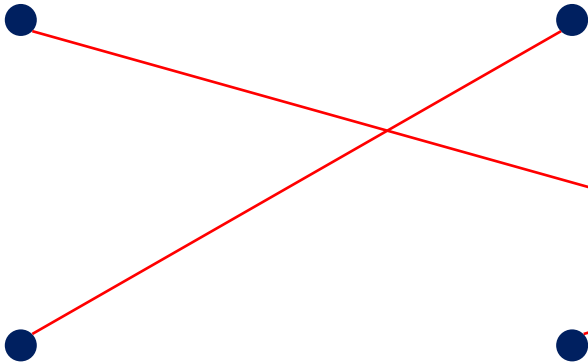
だい4せつ

形づくり



いろいろな形を見つけよう！

にている形を 線で むすびましょう。



下の形は ㍿のぼうを 何本つかっているでしょう。

㍿
↓

1本
↓

2本
↓

1マスで1本

①

14本



②

19本

