



個別指導塾フォルテ

×



さんすう

1ねんせい

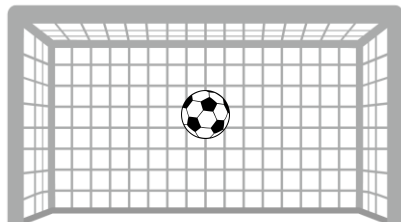
だい3せつ

あわせていくつ・
ふえるといくつ

れい

F C 町田ゼルビアの せんしゅは なんてん きめたかな？

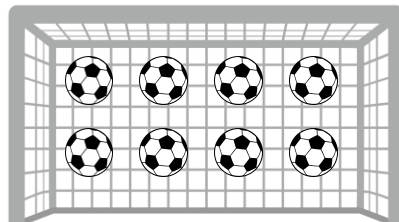
2 がつ の しあい



1



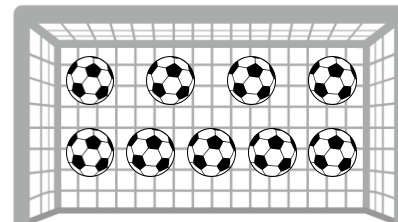
3 がつ の しあい



8



あわせて

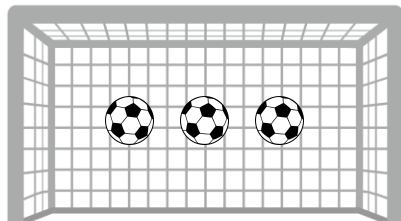


9

「1 たす 8 は 9」とよむよ！



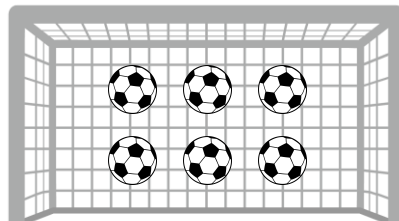
ホームの しあい



?



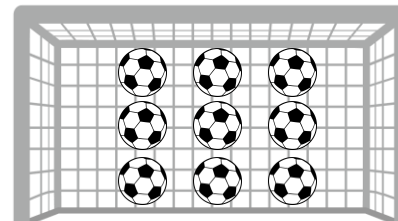
アウェイの しあい



6



あわせて



?

「3 たす 6 は 9」とよむよ！



つぎの ぶんを よんで しきをつくり あわせていくつになるか こたえましょう。

わからないときは えを さんこうに しょう。

① かだんに あかいサルビアの花が4本、うえきばちに
あおいサルビアの花が3本 さいています。

サルビアの花は あわせて なん本 さいていますか。




しき

こたえ

本

② けやきの 木に カワセミが 2わ とまっています。
そこへ あたらしく 4わの カワセミが やってきました。
けやきの 木に カワセミは なんわいますか。



しき







こたえ

わ

【コラム】 0 の たしざん

だい 1 かいの コラムでは「なにもない」ことを あらわすのに 0 を つかうことを まなんだね。

だい 3 かいの コラムでは 0 の たしざんを まなんでみよう。

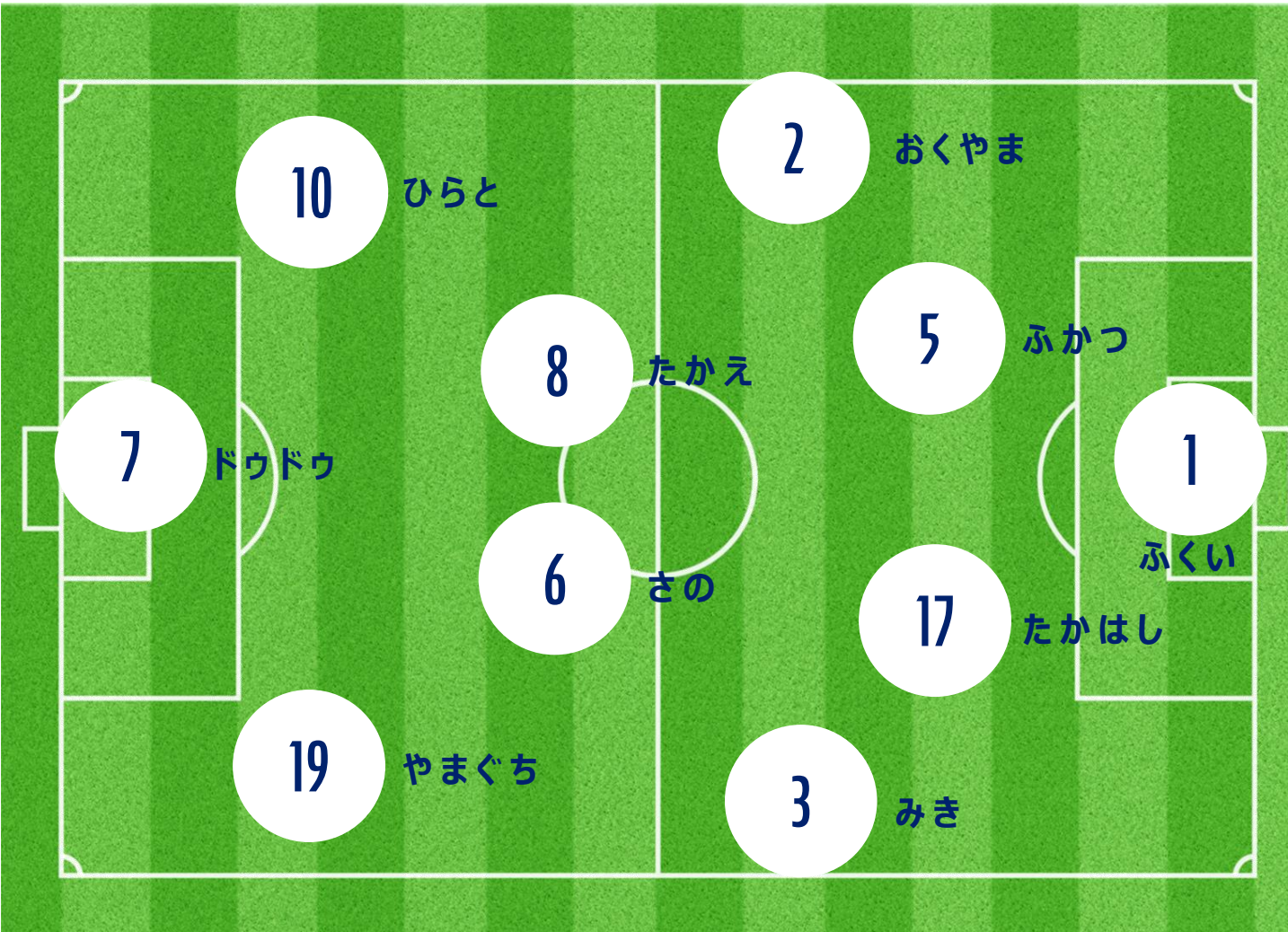
	+		=	
	+		=	

えを みても わかるように 0 を たしても もとのかずから かわらないんだね。

おなじように 0 に なにをたしても かずが かわらないことを たしかめてみよう！

ふたりの せばんごうを あわせて 8 になるように するには
どのせんしゅたちを あわせたら いいでしょうか。

こたえは 3 つあるよ！



①

②

③

