



個別指導塾フォルテ

×



さんすう

こたえあわせ

1ねんせい

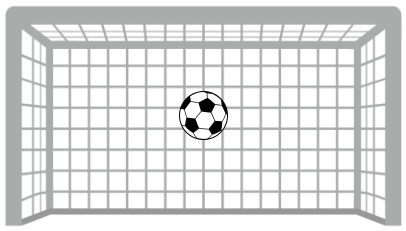
だい3せつ

あわせていくつ・
ふえるといくつ

れい

F C 町田ゼルビアの せんしゅは なんてん きめたかな？

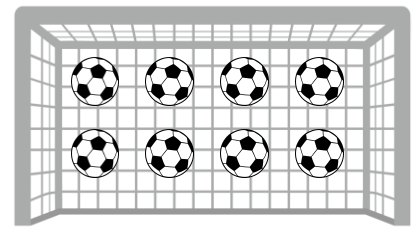
2がつの しいい



1



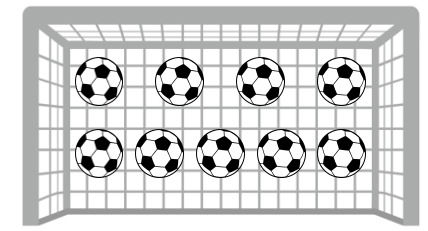
3がつの しいい



8



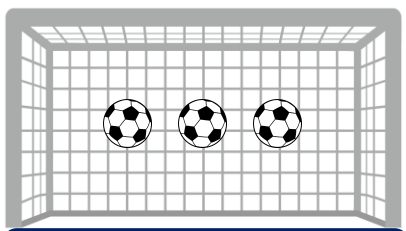
あわせて



9

「1 たす 8 は 9」とよむよ！

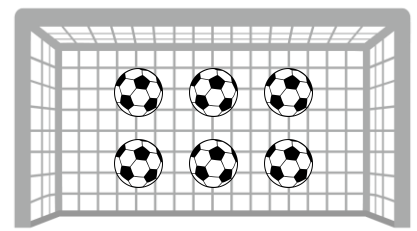
ホームの しいい



3



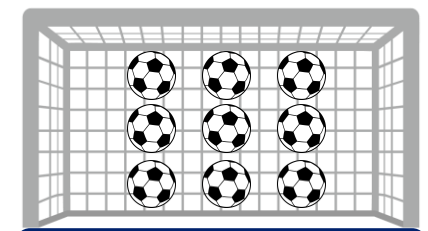
アウェイの しいい



6



あわせて



9

「3 たす 6 は 9」とよむよ！

つぎの ぶんを よんで しきを つくり あわせていくつになるか こたえましょう。
わからないときは えを さんこうに しよう。


① かだんに あかいサルビアの花が4本、うえきばちに
あおいサルビアの花が3本 さいています。
サルビアの花は あわせて なん本 さいていますか。



しき
 $4 + 3 = 7$

7 本

② けやきの 木に カワセミが 2わ とまっています。
そこへ あたらしく 4わの カワセミが やってきました。
けやきの 木に カワセミは なんわ いますか。

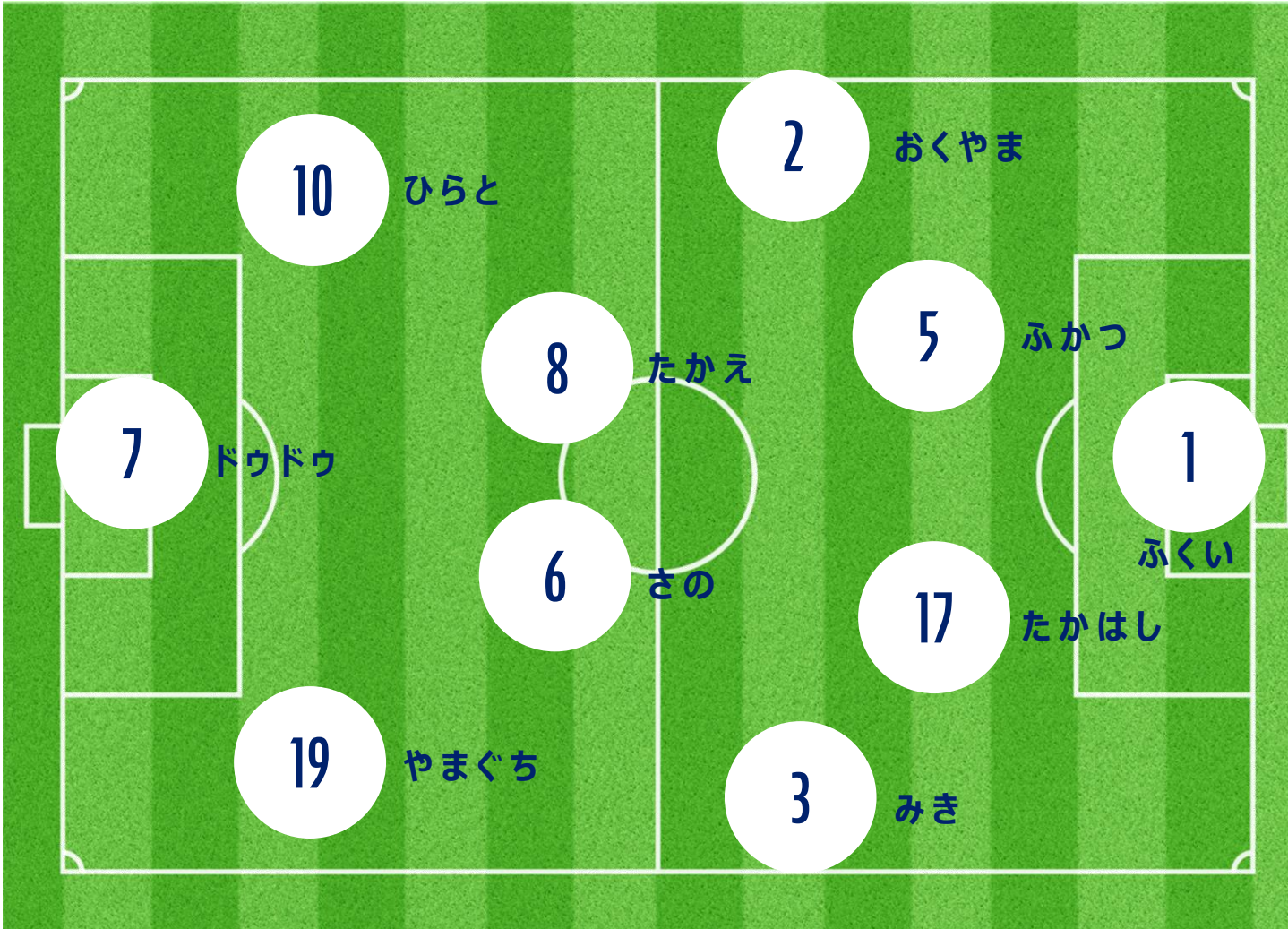


しき
 $2 + 4 = 6$

6 わ

ふたりの せばんごうを あわせて 8になるように するには
どのせんしゅたちを あわせたら いいでしょうか。

こたえは3つあるよ！



①

1ばん (ふくい せんしゅ)
+ 7ばん (ドウドウ せんしゅ)

②

3ばん (みき せんしゅ)
+ 5ばん (ふかつ せんしゅ)

③

6ばん (さの せんしゅ)
+ 2ばん (おくやま せんしゅ)

